




























eurowijs.nl

Naam: \_\_\_\_\_

## Hoeveel zijn de woorden waard?

<b>a</b> 	<b>b</b> 	<b>c</b> 	<b>d</b> 	<b>e</b> 	<b>f</b> 	<b>g</b> 
<b>h</b> 	<b>i</b> 	<b>j</b> 	<b>k</b> 	<b>l</b> 	<b>m</b> 	<b>n</b> 
<b>o</b> 	<b>p</b> 	<b>q</b> 	<b>r</b> 	<b>s</b> 	<b>t</b> 	<b>u</b> 
<b>v</b> 	<b>w</b> 	<b>x</b> 	<b>y</b> 	<b>z</b> 		

Bank 1,00 + 0,50 + 0,50 + 1,00 = € 3,00

Munt \_\_\_\_\_ + \_\_\_\_\_ + \_\_\_\_\_ + \_\_\_\_\_ = € \_\_\_\_\_

Euro \_\_\_\_\_ + \_\_\_\_\_ + \_\_\_\_\_ + \_\_\_\_\_ = € \_\_\_\_\_

Geld \_\_\_\_\_ + \_\_\_\_\_ + \_\_\_\_\_ + \_\_\_\_\_ = € \_\_\_\_\_

Kluis \_\_\_\_\_ + \_\_\_\_\_ + \_\_\_\_\_ + \_\_\_\_\_ + \_\_\_\_\_ = € \_\_\_\_\_